


たし算のひっ算①

つまずき
チェック


なまえ

てん
点
 ひっ算^{さん}でしましょう。

$$56 + 37$$

 やってみよう！

①

 次のようなひっ算をした友だちに、キミはなんて声をかけるかな？ ㊦～㊩の記号で答えましょう。


$$\begin{array}{r} 56 \\ + 37 \\ \hline 92 \end{array}$$

②
()

㊦ 十のくらいに1くり上げるのをわすれているよ！

👉 同じまちがいをしたキミは、プリント03へ



$$\begin{array}{r} 56 \\ + 37 \\ \hline 82 \end{array}$$

③
()㊧ 一のくらいの6+7^{けいさん}の計算をまちがっているよ！

👉 同じまちがいをしたキミは、プリント01へ



$$\begin{array}{r} 56 \\ + 37 \\ \hline 93 \end{array}$$

④
()

㊨ 一のくらいの6+7の計算をまちがっているよ！十のくらいに1くり上げるのもわすれているね。

👉 同じまちがいをしたキミは、プリント01, 03へ



$$\begin{array}{r} 56 \\ + 37 \\ \hline 83 \end{array}$$

⑤
()㊩ すごい、正^{せい}かいだ！

答え	たし算のひっ算①	つまずき チェック	なまえ
-----------	-----------------	--------------	-----

てん
点


 ひっ算^{さん}でしましょう。

$$56 + 37$$

 やってみよう!

①

$$\begin{array}{r} 56 \\ + 37 \\ \hline 93 \end{array}$$

 次のようなひっ算をした友だちに、キミはなんて声をかけるかな？ ㉠～㉤の記号で答えましょう。



$$\begin{array}{r} 56 \\ + 37 \\ \hline 92 \end{array}$$

②
(㉠)

㉠ 十のくらいに1くり上げるのをわすれているよ！

👉 同じまちがいをしたキミは、プリント03へ



$$\begin{array}{r} 56 \\ + 37 \\ \hline 82 \end{array}$$

③
(㉡)

㉡ 一のくらいの6+7^{けいさん}の計算をまちがっているよ！

👉 同じまちがいをしたキミは、プリント01へ



$$\begin{array}{r} 56 \\ + 37 \\ \hline 93 \end{array}$$

④
(㉢)

㉢ 一のくらいの6+7の計算をまちがっているよ！十のくらいに1くり上げるのもわすれているね。

👉 同じまちがいをしたキミは、プリント01, 03へ



$$\begin{array}{r} 56 \\ + 37 \\ \hline 83 \end{array}$$

⑤
(㉣)

㉣ すごい、正^{せい}かいた！